


# Jeseníček



Ročník 44

Č. 11/2018-2019



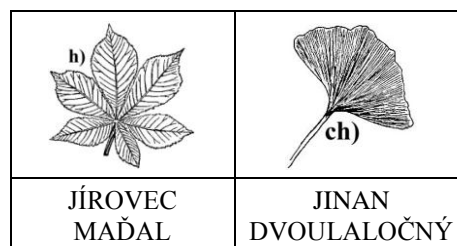
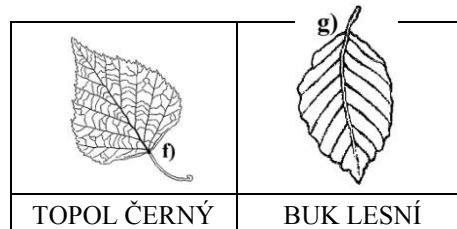
## VÝSLEDKY 1. KOLA:

### 1. - POZNEJ STROMY PODLE LISTŮ:

				
LÍPA SRDČITÁ	JASAN ZTEPILÝ	HABR OBECNÝ	JAVOR MLÉČ	DUB LETNÍ

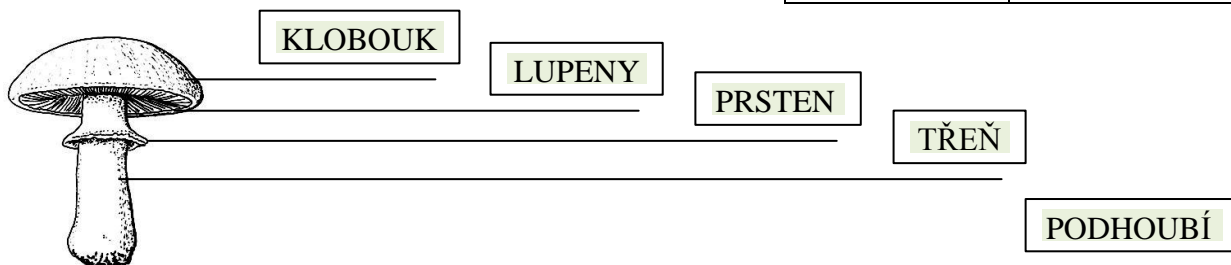
### 2. - VYLUŠTI SKRÝVAČKY:

- a) Už ses naj**edl**, **E**mile? JEDLE  
 b) Mám rád brambory **s mrk**ví. SMRK  
 c) Tomáš zata**jil m**amince průšvih. JILM  
 d) Každou sobotu prožíval Jakub **u k**oní. BUK  
 e) Můžeš přijít **i s** kamarádem na oslavu. TIS



## VÝSLEDKY 2. KOLA:

### 1. - POPIŠ HOUBU:



### 2. - a) ZAŘAĎ HOUBY DO SKUPIN:

JEDLÉ	NEJEDLÉ	JEDOVATÉ
BEDLA VYSOKÁ	HŘIB ŽLUČNÍK	HŘIB SATAN
HŘIB SMRKOVÝ	HADOVKA SMRDUTÁ	RYZEC HNĚDÝ
KŘEMENÁČ OSIKOVÝ		MUCHOMŮRKA ZELENÁ
KLOUZEK OBECNÝ		LYSOHLÁVKA ČESKÁ
ŠPIČKA OBECNÁ	<b>2. - b) OZNAČ NEJJEDOVATĚJŠÍ Z NICH:</b>	
LIŠKA OBECNÁ		

### 3. - PŘESMYČKY- HÁZVY HUB:

BEDLA, KOTRČ, PESTŘEC, UCHÁČ, HLÍVA, KLOUZEK, ZÁVOJENKA, ČIRŮVKA, HŘIB.

# OD PODZIMU DO JARA – PRŮBĚŽNÉ VÝSLEDKY

## MLADŠÍ ŽÁCI: 2. – 4. TŘÍDA

JMÉNO	1. KOLO	2. KOLO	3. KOLO	CELKEM	
Michaela Burstová	30,5	24	33,5	88	1.
Jakub Ketner	26	24	30,5	80,5	2.
Ondřej Kondelík	25	23,5	24	72,5	3.
Vlastimil Sojka	19,5	19	23	61,5	4.
Tomáš Václavík	24,5	21	15	60,5	5.
Vojtěch Gasper	25,5	23,5	0	49	6.
Michaela Narovcová	26,5	19	0	45,5	7.
Jan Bouda	24	19	0	43	7.
Ondřej Dlouhý	24,5	17	0	41,5	8.
Patrik Václavík	23	0	15,5	38,5	8.
Matěj Kadeřábek	12,5	25	0	37,5	9.
Tereza Dragounová	24	0	0	24	10.
Adam Nováček	23,5	0	0	23,5	11.
Lukáš Pavlis	0	19,5	0	19,5	12.
Anna Herčíková	9	0	8,5	17,5	13.
Hana Králíčková	7	0	0	7	14.

## STARŠÍ ŽÁCI: 5. – 8. TŘÍDA

JMÉNO	1. KOLO	2. KOLO	3. KOLO	CELKEM	
Michaela Braunová	27	26	26,5	79,5	1.
Jiří Klementovič	24	20,5	23,5	68	2.
Erik Weber	25	23,5	17	65,5	3.
Sára Potklanová	27,5	0	27	54,5	4.
Adéla Čoková	26	21	0	47	5.
Dan Max Weber	25,5	20	0	45,5	6.
Eliška Hortová	0	18,5	25	43,5	7.
Daniel Kinský	0	0	28	28	8.
Natálie Václavíková	27,5	0	0	27,5	9.
Dominika Vinšová	27	0	0	27	10.
Jan Kadlec	26,5	0	0	26,5	11. – 12.
Roman Bešík	0	0	26,5	26,5	11. – 12.
Robin Žebrakovský	25,5	0	0	25,5	13.
Šimon Navrátil	11,5	12	0	23,5	14.
Jan Trpák	0	0	22,5	22,5	15.
Radek Pavelek	0	21,5	0	21,5	16.
Eliška Pavlisová	0	21	0	21	17.

# OD PODZIMU DO JARA – PRŮBĚŽNÉ VÝSLEDKY

## MLADŠÍ ŽÁCI: 2. – 4. TŘÍDA

JMÉNO	1. – 3. KOLO	4. KOLO	CELKEM	MÍSTO
Michaela Burstová	88	27	115	1.
Jakub Ketner	80,5	27	107,5	2.
Ondřej Kondelík	72,5	26	98,5	3.
Tomáš Václavík	60,5	16	76,5	4.
Vojtěch Gasper	49	19	68	5.
Vlastimil Sojka	61,5	0	61,5	6.
Matěj Kadeřábek	37,5	10	47,5	7.
Michaela Narovcová	45,5	0	45,5	8.
Jan Bouda	43	0	43	9. – 10.
Tereza Dragounová	24	19	43	9. – 10.
Ondřej Dlouhý	41,5	0	41,5	11.
Patrik Václavík	38,5	0	38,5	12.
Adam Nováček	23,5	0	23,5	13.
Lukáš Pavlis	19,5	0	19,5	14.
Anna Herčíková	17,5	0	17,5	15.
Hana Králíčková	7	0	7	16.

## STARŠÍ ŽÁCI: 5. – 8. TŘÍDA

JMÉNO	1. – 3. KOLO	4. KOLO	CELKEM	MÍSTO
Jiří Klementovič	68	25	93	1.
Erik Weber	65,5	21	86,5	2.
Michaela Braunová	79,5	0	79,5	3.
Eliška Hortová	43,5	18,5	62	4.
Sára Potklanová	54,5	0	54,5	5.
Adéla Čoková	47	0	47	6.
Dan Max Weber	45,5	0	45,5	7.
Jan Trpák	22,5	18,5	41	8.
Daniel Kinský	28	0	28	9.
Natálie Václavíková	27,5	0	27,5	10.
Dominika Vinšová	27	0	27	11.
Jan Kadlec	26,5	0	26,5	12. – 13.
Roman Bešík	26,5	0	26,5	12. – 13.
Robin Žebrakovský	25,5	0	25,5	14.
Šimon Navrátil	23,5	0	23,5	15.
Radek Pavelek	21,5	0	21,5	16.
Eliška Pavlisová	21	0	21	17.
Kristýna Řezáčová	0	10	10	18.

# OD PODZIMU DO JARA

## 5. kolo - Ptáci v zimě


### 1. – PŘIKRMOVÁNÍ PTACTVA V ZIMĚ:

Neměli bychom zapomínat na přikrmování ptáčků. Pokud je zima tuhá a dlouhá, začínají strádat nedostatkem potravy a někteří mohou i uhynout. Ne všechno je ale vhodné. Zakroužkuj potravu, která rozhodně do krmítka **NEPATŘÍ**: Slunečnice, čerstvý rohlík, mák, suché pečivo, slané brambory, jablko, ořechy, plesnivý chléb, slanina, lůj, buřt, mrkev, kořeněné zbytky jídla, suché těstoviny, vařená kolínka.



### 2. – ZIMNÍ HOSTÉ:

Ptáčci, kteří se vzácně mohou objevit na krmítku, k nám zalétají při svých tazích z daleké tajgy či ze severské tundry. Napiš jejich rodová a druhová jména a vybarvi černobílou předlohu.



Vyber si jednoho a napiš o něm sedm informací:

### 3. – POZNEJ NAŠE PTÁKY:

Napiš rodové a druhové jméno ptáka a zařaď ho do řádu (např. šplhavci, dravci apod.). Označ ty, které nemůžeme vidět v zimě na krmítku, a napiš, proč.





### 3. – POZORUJ PTÁKY NA KRMÍTKU:

Pozoruj ptáčky na krmítku, popř. za oknem na parapetu. Napiš, které druhy jsi viděl. Můžeš pořídit i fotografii či ptáčka namalovat.

**Vypracované úkoly odevzdej do 15. února.**

## PÁTÁ TŘÍDA NA BRUSLÍCH



Co se týká mrazů, leden vůbec nepřipomíná zimní období. Na rybnících bychom led hledali marně. Proto se pátá třída rozhodla udělat si „pololetní výlet“ na rakovnický zimní stadion – s bruslemi a sportovním odhodláním. Paní učitelka Peterová souhlasila, a tak se jelo. Bylo právě úterý **15. ledna**, kdy měli na stadionu volno.

Když jsme dorazili na místo, převlékli jsme se a nasadili brusle. Než však došlo na bruslení, rozdělil nás pan trenér na skupiny podle zkušeností. Vysvětlil nám, co a jak, a něco nás doučil. Pak už jsme si mohli užívat bruslení do sytosti. Moc jsme se u toho pobavili.

Do odjezdu zpátečního vlaku do Jesenice zbývalo ještě dost času, a tak jsme si dali rozchod po náměstí. To byla příležitost k návštěvě různých obchodů. Jenže než jsme se nadáli, čas odjezdu se naplnil. Vrátili jsme se do školy a radovali se z parádního výletu.

Napsal Jiří Klementovič


## OKRESNÍ KOLO DĚJEPISNÉ OLYMPIÁDY

Rakovník 17. 1. 2019

JMÉNO	TŘÍDA	BODY	MÍSTO
Petr Jankura	VIII.	32	16.
Matěj Duna	VIII.	21	17.

Soutěže se zúčastnilo 17 žáků ze 7 škol okresu včetně GZWR.

# STRÁNKA HUMORU



ABY CHLADILA PILOTA. ZKUS JI ZASTAVIT A UVIDÍŠ, JAK SE PILOT BUDE POTIT.

Novinář, matematik a fyzik jedou spolu vlakem Arizonou. Novinář se dívá z okna a po chvíli prohodí: „Jak tak koukám, všechny krávy v Arizoně jsou černé.“  
Fyzik jej poopraví: „Pane kolego, to jste řekl velmi nepřesně. Aby to bylo přesné, musíte říci: *Všechny krávy v Arizoně, které jsme viděli, jsou černé.*“  
Matematik zvedne hlavu od čtení a praví: „Ale ani vy jste to neřekl správně, pane kolego. Správně to má být: *Všechny krávy v Arizoně, které jsme viděli, jsou alespoň z jedné strany černé.*“

V divadle žena šeptá manželovi:  
„Drahý, podívej, ti tři vedle tebe usnuli.“  
„No a co? Kvůli tomu mě musíš budit?“

Návštěvnice muzea se ptá původce: „Té hrůze říkáte umění?“  
Průvodce odpoví: „Ne, tomu se říká zrcadlo.“



Dva lovci si najali letadlo, aby se dostali do neobydlené, málo přístupné oblasti. Za týden se pro ně pilot vrátil. Pohlédl na jejich úlovek a prohlásil: „Tohle letadlo nepobere víc než jednoho bizona. Ten druhý tady bude muset zůstat.“

„Ale vloni nám pilot dovolil vzít si dva bizony a bylo to úplně stejné letadlo, jako je tohle,“ protestovali lovci. Pilotovi se to nezdálo, ale nakonec ustoupil: „Dobře, když jste to minulý rok zvládli, měli bychom to zvládnout taky.“

A tak letadlo odstartovalo se třemi muži a dvěma bizony na palubě. Nemohlo však nabrat výšku a narazilo do nejbližšího kopce. Lovci se vysoukali z trosk a začali se rozhlížet kolem sebe. Vtom jeden prohlásí: „Kde si myslíš, že jsme?“

Druhý se ještě jednou pořádně rozhlédne a řekne: „Myslím, že jsme asi tak dvě míle nalevo od místa, kde jsme havarovali vloni.“



Pepíček se ptá maminky na svatbě:  
„Mami, proč má ta paní bílé šaty?“  
„To proto, že je šťastná a dnešek je její nejkrásnější den v životě.“  
Pepíček se na chvíli zamyslí a pak se ještě jednou zeptá: „A proč je ženich v černém?“



# Čtenářská soutěž JESENÍČKU

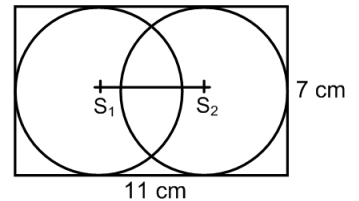
## ŘEŠENÍ HÁDANEK Z ČÍSLA 10/2018-2019:

### 1.- DETEKTIV ŠTIKA

Kdyby lupič střelil do vitríny, jak tvrdil hlídač, pak by musela být rozbitá obě protilehlá skla.


### 2.- OBDÉLNÍK S KRUŽNICEMI

$$|S_1 S_2| = 11 - 2 \cdot 3,5 = 11 - 7 = 4 \text{ cm}$$



## 1) SLOVNÍ HRÁTKY

VSUVKA	ZÁMĚNKA	VÝPUSTKA
V zařízení zatopíš, s kotelnou se pojí. Když písmeno připojíš, boží stánek stojí.	O kus dřeva zavadil, co k topení se hodí. Část nohy si poranil a teď ztěžka chodí.	Organismus jednoduchý písmena se zbavil, tím potřebu ke svícení napětím vybavil.
		

PŘESMYČKA	KAČER KLAPE
Pokus se písmena šikovně zaměnit a poznej autora – napovím: Krakatit.	

## 3) NÁPIS

Najdeš v srdíčku nápis?

Co znamená?

## 2) MALÍŘI

Čtyři dlouholetí přátelé jsou malíři – amatéři. Na jednom setkání se každý pochlubil svým nejnovějším obrazem.

☞ Určete jméno a příjmení každého malíře i obraz, který namaloval, víte-li:

- Miloš není Příhoda a nemaloval rybník
- Jeden malíř se jmenuje Pavel
- Luboš není Příhoda a maloval mlýn
- Nekolný si pochvaloval letošní dovolenou
- Příhoda není autorem aleje ani rybníku
- Radek se nejmenuje Jiráek a ani nemaloval náves
- Autorem mlýnu není Jiráek ani Malát



SOUTĚŽNÍ KUPON	
JMÉNO	
TŘÍDA	