




Ročník
35

J
e
s
e
n
í
č
e
k



Číslo 3
2009/2010



HUBERTSKÝ DEN



opékání špekáčků...

Populární akci ovšem předchází několikakilometrová pěší procházka lesními cestami a známou jírovcovou alejí až k loveckému zámečku Svatý Hubert, postavenému na začátku 18. st. Černíny z Chudenic a pojmenovanému po patronovi lovců svatém Hubertovi. Celá trasa byla i tentokrát lemována soutěžními otázkami, přizpůsobenými žákům obou stupňů ZŠ a tematicky zaměřenými na ochranu přírody. Kdo při tom myslel také na lesní zvěř, sbíral cestou spadané kaštany.



















Letošní Hubertský den se opět vydařil. Čerstvě podzimní počasí bylo velice příjemné a děti i dospělí si ho užívali. Pohoda se odrazila též v počtu soutěžních družstev, jejichž seznam i s dosaženými body (celkem 20 možných) zde rovněž uvádíme:

1. – 5. TŘÍDA			
TŘ.	DRUŽSTVO	B.	M.
V.	Bára, Andrea, Katka, Šárka	18	1.
IV.	VČELKY	17	2.
V.	WHITE HAWKS		
V.	KEDLUBNY	16	5.
II.A	RŮŽE		
II.A	SUPERSTAR		
I.	M. Devera + SPOL.	15	8.
IV.	LOVCI LEBEK		
IV.	MYSLIVCI	14	11.
V.	Vláďa + SPOL.		
III.	ČERNÉ LEBKY	13	12.
II.B	Michal B., Tomáš V. - DRSŇÁCI		
IV.	TYGRÍCI	12	14.
II.B	BÍLÍ TYGRĚI		
III.	ČÍNSKÉ RŮŽE	10	16.
II.B	TYGRÍCI	9	17.

6. – 8. TŘÍDA			
TŘ.	DRUŽSTVO	B.	M.
VIII.	Aneta, Zdeňka, Maruš, Verča	19	1.
VI.	Míša, Lenka, Michal	17	2.
VIII.	Michal, Domča, Martin	15	3.
VIII.	S.W.A.T.		
VI.	Domča, Jirka, Sam	14	5.
VII.	Zděnda, Jára, Vašek, Eliška	13	6.
VI.	Jirka, Fanda, Zděnda	12	7.
VI.	David, Honza, Miloš, Verča		
VIII.	Simča, Domča	11	9.
VI.	Eliška, Matěj, Kája, Monča	10	10.
VII.	Karina, Týna	9	11.
VIII.	Luboš		
VIII.	Míra P., Míra V., Lukáš	8	14.
VII.	Honza, Honza, Venda		
VII.	Štěpka, Monča, Petra, Domča	6	15.
Žáci IX. třídy pomáhali s organizováním soutěží.			

♣♣♣ A s jakými soutěžními otázkami se družstva na trase potýkala? ♣♣♣

OTÁZKY - I. STUPEŇ		ODPOVĚDI
1	Co je cílem dnešní vycházky?	Lovecký zámeček Svätý Hubert.
2	Svätý Hubert je patronem ... 	... myslivců a lovců.
3	Tato houba nepatří mezi chráněné, ale mezi nejjedovatější. O kterou houbu se jedná? 	Muchomůrka zelená.
4	Tento živočich patří v ČR mezi ohrožené a je chráněn zákonem. Je to ... 	... jeseter malý.
5	 Tento černobílý ptáček z řádu krátkokřídlých nepatří mezi chráněné. Je častým obyvatelům našich rybníků. Jak se jmenuje?	Lyska černá.
6	Tento krásný motýl, jehož housenka se živí mrkvovitými rostlinami patří také mezi vzácné – ohrožené druhy. Je to ... 	... otakárek fenyklový.
7	Pozor – není to had, zdání klame! Jedná se o silně ohrožený druh beznohé ještěrky nazvané slepýš křehký. 
8	Tento brouk se vzácně vyskytuje na Křivoklátsku. Patří mezi ohrožené druhy naší přírody. Je to ... 	... roháč obecný.
9	Tento živočich patřil v minulosti k nebezpečným škůdcům na poli. Dnes se vlivem chemizace téměř nevyskytuje. Patří mezi kriticky ohrožené druhy naší fauny. Je to ... 	... sysel obecný.
10	 Tento obojživelník s latinským názvem Hyla arborea patří do kategorie silně ohrožených živočichů naší přírody. Jeho český název je rosnička zelená.
11	Je-li rostlina zvláště chráněna nesmíme ji poškozovat, trhat, přesazovat ani jinak narušovat její růst.
12	Všechny planě rostoucí rostliny i houby a volně žijící živočichové podléhají obecné ochraně. Existence některých druhů je velmi ohrožena, a proto jsou zvláště chráněné. Podle stupně ohrožení rozlišujeme tyto kategorie:	- Ohrožený druh. - Silně ohrožený druh. - Kriticky ohrožený druh.
13	Který pták patří mezi nejmenší na světě?	Kolibřík jemný.
14	Nejohroženějším zvířetem na světě je nosorožec jávský.
15	Proč zmizela za posledních 10 let polovina slonů?	Zabili je lidé pro slonovinu (kly).
16	Co uděláš, když najdeš opuštěné srnče?	Srnčete se nedotýkám a potichu opustím zvíře tak, abych nezanechal pachovou stopu.
17	Jaké jsou nejčastější příčiny požáru lesa?	Nedopalek cigarety a nedbalost.
18	Červená kniha ČR je kniha ohrožených a vzácných druhů rostlin a živočichů na území České republiky.
19	Zvláště chráněná území jsou v terénu značena zevnitř jedním a zvenku dvěma červenými pruhy na kmenech stromů nebo kůlech. 
20	Jak se značí trasa naučné stezky? 	

OTÁZKY - II. STUPEŇ		ODPOVĚDI
1	Otázky pečlivě připravily dívky z IX. třídy Alena Korbelová a Anička Richtrová. Podle zákona O ochraně přírody a krajiny z roku 1992 jsou stanoveny tyto kategorie zvláště chráněných území:	- Národní parky (NP). - Chráněné krajinné oblasti (CHKO). - Národní přírodní rezervace (NPR). - Přírodní rezervace (PR). - Národní přírodní památky (NPP). - Přírodní památky (PP).
2	Prvním národním parkem na světě byl v roce 1872 vyhlášen Yellowstoneý národní park.
3	Na území České republiky byly vyhlášeny tyto národní parky:	- Krkonošský NP (od r. 1963). - NP Šumava (od r. 1991). - NP Podyjí (od r. 1991). - NP České Švýcarsko (od r. 2000).
4	Zvláště chráněná území jsou v terénu značena zevnitř jedním a zvenku dvěma červenými pruhy na kmenech stromů nebo kůlech.
5	Na území které přírodní památky v Přírodním parku Jesenicko hnízdí naše největší sova – výr velký, patříci mezi ohrožené druhy?	Krtské skály. 
6	Přírodní rezervace nacházející se nejbliže naší škole se jmenuje Luční potok. 
7	Mezi významné krajinné prvky v Přírodním parku Jesenicko patří:	- Lom Bedlno. - Boží kámen. - Viklan u Jesenice. 
8	Jak se jmenuje jediná chráněná krajinná oblast v okrese?	CHKO Křivoklátsko. 
9	Jakou rozlohu má CHKO Křivoklátsko?	628 km ² .
10	CHKO Křivoklátsko má ve znaku kyčelnici devítilistou. 
11	Červená kniha České republiky je kniha ohrožených a vzácných druhů rostlin a živočichů na území ČR.
12	Všechny planě rostoucí rostliny i houby a volně žijící živočichové podléhají obecné ochraně. Existence některých druhů je velmi ohrožena, a proto jsou zvláště chráněné. Podle stupně ohrožení rozlišujeme tyto kategorie:	- Ohrožený druh. - Silně ohrožený druh. - Kriticky ohrožený druh.
13	Mezi kriticky ohrožené živočichy v ČR patří želva bahenní.
14	Nejohroženějším zvířetem na světě je nosorožec jávský.
15	O čem pojednává mezinárodní dohoda CITES?	Pojednává o mezinárodním obchodě s ohroženými druhy divoké fauny a flóry.
16	Ekologie se zabývá studiem vzájemných vztahů mezi organismy a jejich prostředím.
17	Nejvyšším orgánem výkonné moci v oblasti životního prostředí v České republice je ministerstvo životního prostředí.
18	Mezi látky nejvíce znečišťující ovzduší patří především oxid siřičitý (SO ₂), oxidy dusíku a polévatý prach.
19	Co je to biomasa?	Rostlinná nebo i živočišná hmota využitelná pro energetické účely.
20	Na světě zmizí každou hodinu část deštného pralesa velká jako 50 fotbalových hřišť.

I. KATEGORIE – CHLAPCI (2002)		
JMÉNO	ČAS	MÍSTO
Josef Kougl	12,3	11.
II. KATEGORIE – (2001 – 2000)		
Jakub Rampas	10,9	14. - 18.
Martin Pokorný	11,0	19. - 23.
Marek Doležal	11,2	30. - 32.
Tomáš Kejla	11,6	37. - 40.
III. KATEGORIE – (1999 – 1998)		
Jakub Pokorný	10,6	25. – 26.
Václav Hron	10,9	29. – 32.
Jan Opat	11,6	38.

RAKOVNICKÝ SPRINT

Středa 30.9.2009

II. KATEGORIE – DÍVKY (2001 – 2000)		
JMÉNO	ČAS	MÍSTO
Eliška Stupková	11,1	14. – 16.
Štětánka Kougllová	11,5	22. – 25.
Klára Švidroňová	12,1	36. – 37.
III. KATEGORIE – (1999 – 1998)		
Ivana Horvátová	10,1	7. – 9.
Barbora Havlíčková	10,2	10. – 12.
Monika Bezstarostová	11,3	21.

4.10. - SVĚTOVÝ DEN ZVÍŘAT



Světový den zvířat se slaví po celém světě už téměř osmdesát let. V roce 1931 jej vyhlásili v Italské Florencii jako památku na patrona všech zvířat - Františka z Assisi (1181– 1226).


V dětství František nijak nestrádal, avšak později, už jako mladý muž, prý začal mít vidění, ve kterých mu Bůh sdělil, že jeho posláním bude chudoba a služba Ježíši Kristu. Tehdy se zřekl peněz a blahobytu a zvolil skromný život v chudobě. Stal se zakladatelem žebravého řádu františkánů a kromě jiných dobrých skutků začal pečovat o opuštěná a nemocná zvířata. Vůbec je nepovažoval za bytosti nižší než člověk, nýbrž za děti jednoho Otce. Takový přístup k živočichům nebyl v křesťanství typický. Navíc předjímal požadavky ekologického charakteru, včetně přenášení lidské etiky na vše živé, a proto se stal rovněž patronem ekologie. Zemřel 4. října 1226 a hned dva roky poté byl svatořečen.

Nejstarší legendy o svatém Františku z Assisi a jeho vztahu ke zvířatům vznikly už ve středověku. Avšak teprve v roce 1931 byl 4. říjen, den úmrtí svatého Františka, vyhlášen jako Světový den zvířat. **V České republice se Světový den zvířat slaví od roku 1994.**

Zvířata žijí vedle lidí i spolu s nimi. Každý člověk si k nim vytváří svůj vlastní postoj. Musíme však respektovat, že stejně jako my jsou zvířata součástí této planety a naše chování k nim by mělo být ohleduplné. Stejně jako my cítí radost, smutek, strach i utrpení. Soucit s nimi není oddělený od soucitu s lidmi.

Přesto stále přicházejí varovné signály od těch, kdo bojují za práva zvířat a upozorňují na to, co nemusí být na první pohled zřejmé:

- Nenávratně vyhyne několik volně žijících druhů zvířat denně, a to díky systematickému ničení posledních zbytků přírody, obchodu se zvířaty a s částmi jejich těl.
- Každý den umírají zvířata jen proto, že se lidé baví jejich zabíjením.
- Mnoho zvířat čeká na jatka v nedůstojných, stresujících podmínkách.
- Mnoho jich končí v pokusných laboratořích.



Toto je součást naší každodenní reality, kterou si mnohdy nechceme připouštět ...

Přehled zájmových kroužků ve školním roce 2009/2010

NÁZEV KROUŽKU	VEDOUcí	SCHŮZKA	ČAS
Gymnastika (1. – 4. třída)	pí Jana Doležalová	Pondělí	13 ¹⁰ - 14 ⁰⁰
Rybářský kroužek	p. Martin Peter		15 ⁰⁰ - 17 ⁰⁰
Ruční práce	pí Radka Vodrážková		15 ³⁰ - 17 ³⁰
Country tance (I. stupeň)	pí Miluška Mottlová		16 ⁰⁰ - 17 ³⁰
Karate a kickbox	p. Vladimír Jastrzebski	Úterý	17 ⁰⁰ - 18 ⁰⁰
Keramický kroužek	pí Jana Hornofová	Středa	12 ³⁰ - 14 ³⁰
	p. Martin Hornof		
Pěvecký kroužek	pí Jaroslava Juříčková	Čtvrtek	12 ⁴⁵ - 13 ¹⁵
Karate a kickbox	p. Vladimír Jastrzebski		18 ⁰⁰ - 19 ⁰⁰
Florbal (1x za 14 dní)	pí Eva Koniřová	Pátek	13 ⁴⁵ - 16 ⁰⁰
Mladí hasiči	p. Pavel John		16 ⁰⁰ - 18 ⁰⁰
Železniční modeláři (od 3. tř.)	p. Jiří Berka		16 ⁰⁰ - 18 ⁰⁰
Odbíjená	p. Zdeněk Hornof	Sobota	15 ³⁰ - 17 ⁰⁰
Dopisovatelský	p. Zdeněk Modrý	Nepravidelně	

Den otevřených dveří školní zahrady



Dne 7. října se na naší školní zahradě uskutečnil Den otevřených dveří. Celé akci předcházely terénní úpravy, vykácení nežádoucích porostů, výsadba nových rostlin a mnoho dalších vylepšení. Vše se společně s výtvary žáků a výpěstky občanů představilo školám i veřejnosti právě tuto středu.

Pro školy byla zahrada otevřena od 10 hodin, takže jsme měli dostatek času na přípravu. Už od rána se sem přivážely různé rostliny, rozmanité druhy ovoce a zeleniny a také výtvarné práce žáků. Vše se s přehledem zvládlo, a tak si první návštěvníci z mateřské školy mohli zahradu prohlédnout ještě před desátou hodinou. Pro ně a děti ze speciální školy si žáci 4. třídy připravili různé úkoly, takže si děti i zasoutěžily. Také mohly nakreslit, co se jim zde nejvíce líbilo. Obrázků se nakonec sešlo značné množství, za což všem výtvarníkům děkujeme! Návštěvu zahrady si nenechali ujít ani žáci místní zemědělské školy, kteří rovněž přispěli ukázkami prací z oboru zahradník.

Po 12. hodině se zahrada přechodně uzavřela, aby se ve 14 hodin opět otevřela pro veřejnost. Mladé návštěvníky tak vystřídali rodiče, babičky a dědečkové. V altánku pro ně učitelé připravili pohoštění ze zdravých pomazánek. Návštěvníků bylo za celý den nad očekávání hodně. Zasluhu na tom mělo i krásné, i když poněkud větrné podzimní počasí. Vystavené věci se pomalu začaly uklízet krátce před 17. hodinou, kdy povedená akce skončila.

Napsala Alena Korbelová z IX. třídy

STRÁNKA HUMORU



NEVÍTE, PROSÍM VÁS, KDO TADY V OKOLÍ DÁVÁ HODINY NA KLAVÍR?



BOHUŽEL, NEVÍM. MY DÁVÁME HODINY NA SKŘÍŇ.

Vnučka vyzvídá: „Tak co, dědo, jak dopadlo tvoje minulé rande?“

„Ani se neptej,“ odpoví děda. „Já se usmál, ona se usmála a pak jsme dvě hodiny hledali zuby v trávě!“

Stěžuje si Pepíček: „Mám hrozný zlozvyk, mluvím ze spaní.“

„A co je na tom tak strašného?“

„No, vždycky se mi směje celá třída!“

Malý Vašík povídá tatínkovi: „Až budu velký, ožením se se svou babičkou.“

„Ale to přece nejde, aby sis vzal mou maminku.“

„Jak to, že ne?“ Ty sis také vzal moji!“

NOVÁKU, NOVÁKU, FILM SEDM STATEČNÝCH BYL URČITĚ VÍC VZRUŠUJÍCÍ NEŽ SEDM NEDOSTATEČNÝCH V TVÉ ŽÁKOVSKÉ KNÍŽCE.



Při hodině českého jazyka vyvolá paní učitelka Jirku: Vyčasuj nám sloveso chodit.“

„Já chodím..., ty chodíš...“

„Nešlo by to trochu rychleji?“

„Já běžím, ty běžíš...“

Cestovatel se ptá domorodce:

„Vyskytují se tu ještě lidojedi?“


„Už ne, včera jsme snědli posledního.“

ŠKOLNÍ PERLIČKY

- Oxidů známe pět a všechny tři jsou škodlivé.
- Když učitel vejde do třídy, začne hodina povstáním.
- Brzy po startu stáhlo letadlo podvazky.
- Jižní vítr je severní vítr, který se vrací.
- Závislost elektrického odporu na délce vodiče je taková, že čím je vodič delší, tím je odpornější.
- Mimikry jsou malé kusy ledu.

COPAK JSTE TO VČERA OSLAVOVALI, ŽE VŠICHNI NA ZAHRADE TĚ DIVOCE TANČILI?

ALE NETANČILI! TO JENOM NÁŠ MÍŠA PŘEVŘÁTIL VČELÍ ÚL.





ČTENÁŘSKÁ SOUTĚŽ JESENÍČKU


1

SKRÝVAČKY EVROPSKÁ MĚSTA

- a/ Jen ti, co se báli, zbaběle hrad opustili.
- b/ Na nabízenou cigaretu odpověděl: „Děkuji, nekouřím!“
- c/ Turistům se velmi líbilo Slovensko, hlavně pak Vysoké Tatry.
- d/ Neber na sebe tu pláštěnku, venku už stejně neprší!
- e/ Nabrus Elišce ten kuchyňský nůž!
- f/ Petr se pozdě schoval za rozložitý dub, Linda ho stejně viděla.

ŘEŠENÍ HÁDANEK Z ČÍSLA 2/2009-2010:

1.- POZEMEK SE STROMY



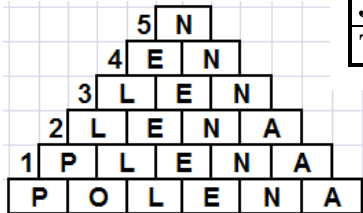
2.- OSMISMĚRKA Červenka obecná.

3.- KVÍZ 1b, 2b, 3c, 4a, 5c, 6a.

4.- NAJDI PĚT ROZDÍLŮ 1/ Vlasy ženy. 2/ Kravata muže. 3/ Zuby ženy. 4/ Náušnice muže. 5/ Ubrus.

5.- SLOVNÍ ÚLOHA Na 1. místě se umístil Bohoušek.

6.- PYRAMIDA SLOV



SOUTĚŽNÍ KUPON	
JMÉNO	
TŘÍDA	

2 POČETNÍ TABULKY

x	4	3
5	20	15
7	28	21

x		
	35	63
	30	?

Na prvním obrázku vidíme tabulku násobení čísel. Na druhém obrázku je podobná tabulka násobení, chybí v ní však některá čísla. Které číslo patří do vybarveného políčka místo otazníku?
/Matematický klokan 2008, kategorie Benjamín/

TROJÚHELNÍKY

KOLIK TROJÚHELNÍKŮ JE NA OBRÁZKU?

3

