



Časopis ZŠ a MŠ
Jesenice

Jeseníček

Ročník 34



Jeseníček

č. 5/2008-2009





ŠKOLNÍ KOLO DĚJEPISNÉ OLYMPIÁDY

V pondělí 3. 11. 2008 se na naší škole uskutečnilo školní kolo dějepisné olympiády. Soutěže, určené žákům VIII. a IX. tříd, kteří mají rádi historii, se zúčastnilo celkem čtrnáct zájemců.

V organizaci školního kola došlo oproti loňskému roku k jedné významné změně: test, tentokrát na téma *"Doba hradů a zámků v Čechách a na Moravě do období renesance"*, již nebylo možné zadat jako domácí práci, a tak žáci museli spoléhat jen na své

znalosti a na svou paměť.

Celkem bylo možné získat 96 bodů. Nejlépe se s úkoly vypořádaly dvě žákyně z deváté třídy: Martina Nistorová a Martina Müllerová, které budou reprezentovat naši školu v okresním kole soutěže. Náhradnicí je Alena Korbelová, která ve školním kole obsadila 3. místo.

Petra Hružová



JMÉNO	TŘÍDA	BODY	MÍSTO
M. Müllerová	IX.B	44	1. – 2.
M. Nistorová	IX.A		
Alena Korbelová	VIII.	40	3.
Jana Vinšová	VIII.	38	4.
Anna Richtrová	VIII.	36	5.
Jitka Kinská	IX.A	33	6.
R. Vodrážková	IX.A	29	7. – 8.
Tomáš Benedek	IX.B		
Ondřej Wopat	IX.B	26	9.
Jana Chalupová	IX.A	25	10.
J. Červenka	IX.B	24	11.
Milan Anděl	IX.B	22	12.
M. Sojková	VIII.	20	13.
M. Podoláková	VIII.	19	14.

SAMETOVÝ TURNAJ V JUDU



Sametový turnaj mládeže – právě tak se nazýval turnaj v judu, který proběhl v Teplicích v **sobotu 8. listopadu 2008** a kterého jsem se zúčastnil.

Do Teplic mě přivezl otec osobním autem zhruba v osm hodin ráno. Vyplnil jsem startovní lístek a šel se zvážit, protože hmotnost je u zápasníků v judu důležitá. Poté jsem se převlékl do kimona a v 11⁴⁵ nastoupil k prvnímu zápasu. Soupeř měl oranžový pás, zatímco já pouze žlutý. Přesto jsem soupeře porazil úspěšným chvatem osoto gari.

V mé kategorii nás bojovalo celkem šest, přičemž dva zápasníci měli zelený pás (san-kjú, 3. kyu), tři zápasníci měli oranžový pás (ši-kjú, 4. kyu) a pouze já měl žlutý pás (go-kjú, 5. kyu), jak už jsem se zmínil. Nakonec jsem si z turnaje odvezl cenu za konečné **3. místo**, což je pro mě velkým povzbuzením.

Napsal Lukáš Kinský, VII. třída



TŘEŠÁCI VERŠOVALI





ČTENÁŘSKÁ SOUTĚŽ JESENÍČKU

Drama lásky, zrady a pomsty – to je příběh Edmonda Dantése z románu Alexandra Dumase staršího a také TAJENKA.

E. Dantés se setká na ostrově Elba s internovaným Napoleonem. Přijme od něho dopis, o kterém se nemá nikdo dozvědět. Bohužel ho ale zahlédne „přítel“ Fernand Montega, který ho po návratu do vlasti udá úřadům. To vše proto, aby Edmondovi odloudil jeho milovanou Mercedes...

1

DOPLŇOVAČKA

ŘEŠENÍ HÁDANEK Z ČÍSLA 4/2008-2009:

1.- OSMISMĚRKA:

Brhlík lesní.

2.- RUCE:

Do skupiny nepatří ruka č. 6, která jediná je pravá.

3.- POSTAVY Z VEČERNÍČKŮ:

- a) Manka a motýl Emanuel.
- b) Obě postavičky jsou z různých příběhů.
- c) Václav Čtvrtek.
- d) Manku namaloval Radek Pilař, motýla Emanuela namalovala Gabriela Dubská.

4.- AUTOMOBIL:

- 1/ Přední světlo.
- 2/ Zpětné zrcátko.
- 3/ Klika u dveří.
- 4/ Čelo vozu.
- 5/ Zadní kolo.

5.- UPRAVENÁ FOTOGRAFIE:

Kostel sv. Petra a Pavla.

1	2	3	4	5	6	7	8	9	10	11	12	13	14	15	16


1/Kalich. 2/Jméno zpěváka Gotta. 3/Hlavní město České republiky. 4/Lovec ryb. 5/Dívčí jméno (20.6.). 6/Vývojové stadium paličkovice nachové. 7/Část věty. 8/Opak začátku. 9/Nejedlý hřib (boletus satanas). 10/Tatranské jezero ledovcového původu. 11/“Chechtavý“ pták. 12/Slitina hliníku a mědi. 13/Antické trojspřeží. 14/Veršované dílo. 15/Část stroje (pohon). 16/Vzdělávací instituce.

Nápověda: 12/DURAL, 13/TRIGA.

CO CHYBÍ?

Na obrázku níže jsou čtyři komůrky plné nejrůznějších symbolů. V jedné komůrce je však o jeden symbol méně. Který symbol chybí?

2



SOUTĚŽNÍ KUPON JESENÍČKU

JMÉNO

TŘÍDA

Ani v tomto školním roce nebudou žáci ochuzeni o další ročník přírodovědné soutěže

OD PODZIMU DO JARA

Po Nele Bekárkové a Ondrovi Uhrovi se její přípravy tentokrát ujaly Anička Richtrová a Alena Korbelová z VIII. třídy...



I. KOLO

ÚKOL Č. 2 – HLODAVEC:

Poznej hlodavce na obrázku a napiš o něm tři informace.



Křeček polní:

- Žije na poli.
- Je asi 20 cm dlouhý, má krátké nohy, malé ušní boltce a krátký ocas.
- V ústní dutině má lícní torby (kapsy), které slouží k přenášení semen do doupěte.

1/ Plod buku.

2/ Doktor lesa.

3/ Nosí domeček na zádech.

4/ Rákosníčkův rybník (bez čárky nad A).

5/ Černožlutý brouk živící se spásáním bramborové natě.

6/ Ryje jako...

7/ Rostlina z čeledi miříkovitých (pochází z oblasti centrální Asie).

8/ Hlodavec přizpůsobený vodnímu životu (staví hráze).

9/ Nejlepší přítel člověka.

ÚKOL Č. 1 – ROSTLINY:

Mezi třemi rostlinami je vždy jedna, která v daném prostředí nežije. Podtrhni její název.

- a) Na vlhké louce kvete blatouch bahenní, kosatec žlutý a rozchodník bílý.
- b) Na suché, sluneční stráni jsme našli bleduli jarní, netřesk výběžkatý a pryšce chvojku.
- c) Na vyšlapaném okraji cest se daří lipnici roční, jílku vytrvalému a vstavači kukačce.

ÚKOL Č. 3 – DOPLŇOVAČKA

Čím se živí hrabavý pták, jehož jméno je tajenkou doplňovačky?

1					B	U	K	V	I	C	E		
2				D	A	T	E	L					
3	H	L	E	M	Ý	Ž	Ď						
4				B	R	Č	A	L	N	Í	K		
5				M	A	N	D	E	L	I	N	K	A
6				K	R	T	E	K					
7				B	O	L	Š	E	V	N	Í	K	
8				B	O	B	R						
9					P	E	S						
10	M	Š	I	C	E								
11				K	Á	N	Ě						
12					V	Ý	R						

10/ Ferda mravenec jim říkal „mravenčí krávy“...

11/ Nejběžnější dravec u nás.

12/ Naše největší sova.

OD PODZIMU DO JARA

POŘADÍ SOUTĚŽÍČÍCH PO I. KOLE (maximum: 24 bodů):

MLADŠÍ ŽÁCI (2.- 4. TŘÍDA)

JMÉNO	TŘÍDA	BODY		MÍSTO
		V 1. KOLE	CELKEM	
Eva Konářová	2.	24	24	1.
Marek Doležal	2.	24	24	1.
Tomáš Uher	3.	24	24	1.
Š. Kouglová, M. Bezstarostová	3.	24	24	1.
Alice Čížková	3.	24	24	1.
Andrea Kukiová	4.	24	24	1.
David Kadeřábek	2.	23	23	2.
Lucie Wünschová	3.	23	23	2.
J. Ťažiarová, A. Hronová	3.	23	23	2.
Anežka Čížková	3.	23	23	2.
D. Břicháč, K. Červenka	4.	23	23	2.
Michal Jelínek	2.	21	21	3.
Pavla Petrániová	3.	21	21	3.
B. Havlíčková, V. Hron	4.	21	21	3.
Kateřina Vanická	4.	20	20	4.
Barbora Svatoňová	2.	19	19	5.
Denisa Spurná	3.	18	18	6.
Ivana Horvátová	4.	17	17	7.
Markéta Tranová	2.	17	17	7.
Stanislav Svašek	2.	15	15	8.

STARŠÍ ŽÁCI (5.- 7. TŘÍDA)

JMÉNO	TŘÍDA	BODY		MÍSTO
		V 1. KOLE	CELKEM	
Michal Tatzauer	7.	24	24	1
Marie Zikulová	7.	24	24	1
Aneta Alexijová	7.	24	24	1
Dominika Kinská	7.	24	24	1
Veronika Dolejšová	7.	24	24	1
Monika Šantorová	5.	23	23	2
Tomáš Vyleta	5.	23	23	2
Zdeněk Cink, Samuel Pfejfer	5.	20	20	3
Eliška Blahová	5.	17	17	4
Miloš Müller	5.	16	16	5
Zdeněk Novotný, Jára Mutínský	6.	15	15	6
Simona Švidroňová	7.	14	14	7

OD PODZIMU DO JARA



II. KOLO

ZADÁNÍ SOUTĚŽNÍCH OTÁZEK II. KOLA

Úkol č. 1 - ZJISTI:

- a) Který den se slaví Den stromů? Nápovědu najdeš v Jeseníčku č. 3/2008-2009.
- b) Kde vznikla tato tradice?
- c) Kde roste kleč a jak je přizpůsobena svému prostředí?
- d) Proč roste olše lepkavá u vody?
- e) Znáš i jinou rostlinu, která roste u vody?

Úkol č. 2 - DŘEVINY:

Která dřevina nepatří do skupiny a proč?

- a) Modřín opadavý, smrk ztepilý, trnovník akát, borovice černá.
- b) Bez černý, modřín opadavý, smrk stříbrný, bříza bělokorá.
- c) Olše, vrba, bříza, jasan.

ÚKOL Č. 3 - HRÁZ VELKÉHO RYBNÍKA

Na hrázi Velkého rybníka můžeme spatřit dvě řady stromů.




Zjisti:

- a) Jak se stromy nazývají?
- b) Kolik jich je?
- c) Jak jsou průměrně staré?
- d) Jaký mají význam pro hráze?
- e) Najdeš na tabuli naučné stezky č. 13 chybu? Napiš ji.



ÚKOL Č. 4 – LISTY:

O jaký typ složeného listu jde? Pospojuj název, příklad rostliny a obrázek.

	TYP LISTU 1) Trojčetný 2) Lichožpeřený 3) Dlanitě složený		PŘÍKLAD ROSTLINY a) Trnovník akát b) Jetel plazivý c) Jírovec maďal	
-------------------------------------------------------------------------------------	---------------------------------------------------------------------------	-------------------------------------------------------------------------------------	-------------------------------------------------------------------------------------	---------------------------------------------------------------------------------------

ÚKOL Č. 5 – STROMY U ŠKOLY:

Určitě jsi si všiml(a), že v okolí školy je několik nově zasazených stromů a keřů.

- a) Zjisti názvy tří nově zasazených stromů a tří nově zasazených keřů.
- b) Vyber si jeden z nich, nakresli ho a napiš o něm alespoň tři zajímavosti.

Užitečné informace nalezeš v Průvodci Naučnou stezkou Jesenicka nebo na www.jesenice-ra.cz

STRÁNKA HUMORU

☺ Ve vlaku sedí paní s malým chlapečkem na klíně a naproti nějaký pán. Chlapeček se vyptává:

"Kolik je ti, pane?"

Muž s úsměvem odpoví.

"A máš ženu?"

A muž opět ochotně odpoví, stejně jako na všechny další zvědavé otázky. Nakonec se chlapeček obrátí k mamince:

"Tak už je to všechno, co jsi chtěla vědět?"

Baví se dva kamarádi:

„Moje máma,“ povídá první, „jezdí autem jako blesk.“

„Tak rychle?“


„Kdepak! Jen s ním každou chvíli práskne do nějakého stromu.“

Mladá dvojice končí schůzku.

„Dál už půjdu sama. To víš, tatínek!“ říká ona.

„To tě tak hlídá?“

„No, otec mých dětí je děsně žárlivý.“



„To se dělá, takhle čmárat po zdi?!“

„Prosím, my nečmáráme, my jsme dostali za domácí úkol popsat školu.“

Londýn, je typická hustá mlha zvaná hrachová kaše. Předměstím jede vůz za vozem. Najednou první zastaví a ostatní s třeskotem narážejí jeden do druhého.

„Damned!“ zařve někdo z řady. „To nemůžeš nechat svítit světla, když zastavuješ?“

„A proč?“ diví se první. „Vždyť jsem ve své garáži...“

☺☺ Mladík se loučí se svou tanečnicí:

„Mohu vás ještě někdy vidět?“

„Ale jistě, moje číslo je v telefonním seznamu.“

„A jméno?“

„Hned vedle něho...“



Do Stránky humoru přispěla anekdotami Simča Švidroňová ze VII. třídy.